




SEDE: María Auxiliadora	DOCENTE: Ximena Currea Diaz
GRADO: 102	AREA: Matemáticas
TEMA: La Adición	OBJETIVO: Utilizar diferentes estrategias para contar, realizar operaciones en donde se aplique la adición.
DESEMPEÑO: Efectúa adiciones y problemas sencillos de adiciones.	
TRANSVERSALIDAD: Utiliza de su entorno objetos que le sirvan para realizar adiciones(Medio ambiente)	

ACTIVITY ONE

1. **Completa las series de manera ascendente y descendente según se le solicita luego colorea los payasos que tienen una decena de cubos.**





ACTIVITY TWO

Mayor, menor, igual

2. Escribo el signo ">", "<", o "=", según corresponda:

$5 \square 2$

$3 \square 3$

$4 \square 3$

$5 \square 5$

$2 \square 3$

$5 \square 2$

$0 \square 3$

$3 \square 1$

$2 \square 5$

$4 \square 0$

$1 \square 5$

$5 \square 3$

$2 \square 2$

$1 \square 0$

$1 \square 3$

$3 \square 5$

$4 \square 4$

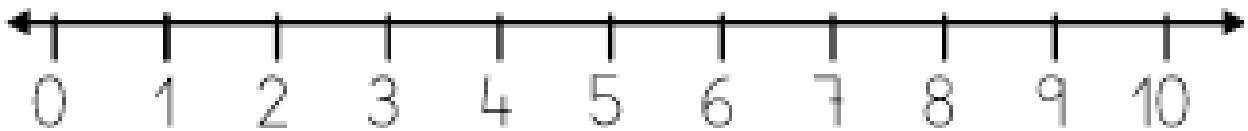
$4 \square 1$



ACTIVITY THREE

3. Usa la línea para resolver adiciones

¡recuerda que con el + añadimos!



2	5	7	4	8
+2	+1	+2	+4	+2
—	—	—	—	—
<input type="text"/>	<input type="text"/>	<input type="text"/>	<input type="text"/>	<input type="text"/>

2	1	9	6	7
+3	+3	+1	+2	+3
—	—	—	—	—
<input type="text"/>	<input type="text"/>	<input type="text"/>	<input type="text"/>	<input type="text"/>

6	5	3	5	4
+4	+5	+3	+0	+1
—	—	—	—	—
<input type="text"/>	<input type="text"/>	<input type="text"/>	<input type="text"/>	<input type="text"/>



ACTIVITY FOUR

4. Resuelve los siguientes problemas según el ejemplo, escribiendo su cálculo y resultado en los espacios en blanco que figuran junto a las consignas.

HABÍA **5** HELADOS. DIEGO COMPRÓ **3** HELADOS MÁS. ¿CUÁNTOS HELADOS TIENE EN TOTAL?



$$5 + 3 = 8$$

PABLO COMPRÓ **4** ALFAJORES Y MARISA COMPRÓ **3** ALFAJORES. ¿CUÁNTOS ALFAJORES TIENEN LOS DOS JUNTOS?



$$\square + \square = \square$$

HAY **2** MOCHILAS VERDES Y **4** MOCHILAS AZULES. ¿CUÁNTAS MOCHILAS HAY EN TOTAL?



$$\square + \square = \square$$

2 GATITOS ESTÁN JUGANDO. LLEGAN **3** GATITOS MÁS. ¿CUÁNTOS GATITOS HAY EN TOTAL?



$$\square + \square = \square$$

AMPARO TIENE **4** CUADERNOS. MATÍAS LE REGALA **5** CUADERNOS MÁS. ¿CUÁNTOS CUADERNOS HAY EN TOTAL?





$$\square + \square = \square$$





ACTIVITY FIVE


5. Escribe los números y realiza las adiciones


1 
 $3 + 2 = 5$

2 
 $5 + 2 = \square$

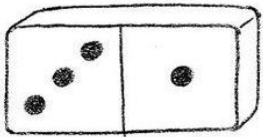
3 
 $_ + _ = \square$

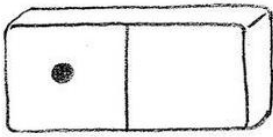
4 
 $_ + _ = \square$

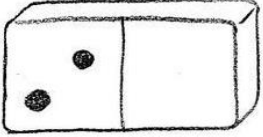
5 
 $_ + _ = \square$

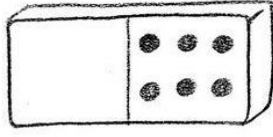
6 
 $_ + _ = \square$


Completa y suma

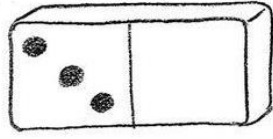
1 
 $3 + 1 = 4$

2 
 $1 + 4 = _$

3 
 $2 + 4 = _$

4 
 $3 + 6 = _$

5 
 $_ + 3 = _$

6 
 $_ + 5 = _$




ACTIVITY SIX

Adiciones

6. Resuelve las adiciones y pega la pieza según el resultado para armar el rompecabezas.

$2 + 1 =$	$2 + 2 =$	$4 + 2 =$
$5 + 2 =$	$6 + 3 =$	$1 + 1 =$
$3 + 2 =$	$1 + 0 =$	$5 + 3 =$






ACTIVITY SEVEN

Complementos del 10

7. Colorea el paisaje libremente y todas las vacas cuya adición sea 10





ACTIVITY EIGHTH

8. Colorea según el número

3= rosa

4=rojo

5= amarillo

6= verde fuerte

7= café claro

8= morado

9= verde claro

10= verde fuerte

11= azul

12= amarillo

